

**Cuadernillo de Repaso  
Trimestre III  
Cuarto de Primaria**

12. Completa las siguientes series numéricas.

○ 111    222    \_\_\_    \_\_\_    \_\_\_    666

○ \_\_\_    330    \_\_\_    \_\_\_    360    \_\_\_

○ 200    400    \_\_\_    \_\_\_    1000    \_\_\_

13. El viernes en la noche Felipe fue al cine la película empezó a las:

Y duro dos horas. ¿a que hora termino la película?




.....

14. Andrea puso un pastel en el horno a las 11:30 de la mañana. El pastel se demoro 30 minutos en estar listo. ¿A que hora estuvo listo?



.....

15. ¿Cuál de estos ángulos crees que mide 90°? ¿Por qué?



16. Dibuja cuatro tipos de ángulos y escribe cuanto mide y su nombre.

1.-	2.-
3.-	4.-

17. Con la regla, traza una línea que tenga una longitud de 10cm.

\_\_\_\_\_

16. Escribe sobre la línea cuanto mide el largo de cada objeto.



\_\_\_\_\_

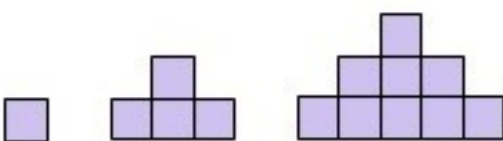


\_\_\_\_\_



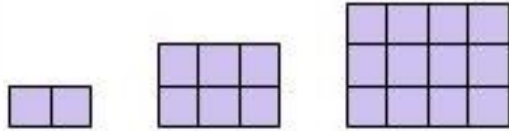
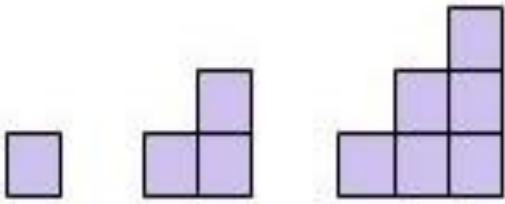
\_\_\_\_\_

17. Completa las siguientes sucesiones:



\_\_\_\_\_

\_\_\_\_\_



20. Teresa tiene 66 flores y regalo algunas flores a su hermana y ahora tiene 15 flores ¿cuantas flores regalo a su hermana?

A large rectangular area enclosed by a dotted line, intended for the student to write their answer to the word problem.

# Ciencias Naturales

1. ¿Cómo se puede tener una dieta completa equilibrada y saludable?
  - Comiendo tres veces al día
  - Consumiendo un alimento de cada grupo del Plato del Bien Comer
  - Consumiendo frutas y verduras
  - Consumiendo alimentos de origen vegetal.
2. ¿Qué beneficios se obtienen al consumir alimentos del Plato del Bien Comer?

- a) Nutrirse bien.
- b) Prevenir enfermedades.
- c) Tener un cuerpo atlético.
- d) Comer solo que mas me gusta.
- e) Fortalecer las defensas del organismo.

- a, b y c
- a, b y d
- a, b y e
- b, c y d

3. Relaciona los aparatos del cuerpo humano y sus funciones.

## Aparato

## Función

- |                         |  |
|-------------------------|--|
| a) Aparato digestivo    | Lleva a través del torrente sanguíneo los nutrientes a todo el cuerpo. |
| b) Aparato circulatorio | Desecha todo lo que no se utiliza de los alimentos.                    |
| c) Aparato excretor     | Digiere los alimentos para su mejor aprovechamiento.                   |

4. Ordena las cuatro etapas del proceso de nutrición y da un ejemplo.

Absorción

Digestión

Eliminación

Ingestión



Esta prohibida la distribución y/o venta de este material sin el conocimiento de **SuperEdu**, cualquier persona no autorizada para dicho propósito estará efectuando una infracción al derecho de autor, la cual sería reportada con las autoridades correspondientes.



@SuperEduMX



@SuperEduMX



Whatsapp: 5538551761