



**Cuadernillo de Repaso**  
**Trimestre III**  
**Cuarto de Primaria**




1. ¿Cuál notación desarrollada representa la siguiente cantidad 6,400?

- a)  $(4 \times 800) + (3 \times 500) + (3 \times 200) + (10 \times 100)$
- b)  $(6 \times 500) + (3 \times 400) + (5 \times 200) + (8 \times 100)$
- c)  $(7 \times 500) + (6 \times 300) + (5 \times 200) + (3 \times 100)$
- d)  $(8 \times 400) + (5 \times 300) + (6 \times 200) + (5 \times 100)$

2. La cajera de una tienda de autoservicio entregó a la supervisora 5 billetes de \$1 000, 7 billetes de \$100, 9 monedas de \$10 y 3 monedas de \$1. ¿Cuánto dinero entregó en total?

3. María, Pedro y Luis compraron una pizza y la dividieron en partes iguales.



¿Qué fracción le toco a cada uno?

- $1/8$
- $2/8$
- $3/8$
- $8/3$



4. La pizza costo \$240.00, María coopero 85, Pedro 97, ¿Cuánto coopero Luis para completarla?

Haz tus operaciones en el siguiente cuadro y contesta.

.....

.....

.....

5. Encierra los numeros 31 515, 65 933, 47 902, 89 521 y escribe su nombre.

1	2	7	1	7	5	2
4	8	3	6	1	4	0
5	0	2	5	4	4	0
2	1	1	3	7	1	2
0	3	8	9	5	2	1
1	1	0	3	0	6	2
3	2	6	4	2	1	3

31 515 \_\_\_\_\_

65 393 \_\_\_\_\_

47 902 \_\_\_\_\_





89 521 \_\_\_\_\_



6. Juan compro el número de lotería veinticuatro mil setecientos dieciocho y su hermano el anterior. ¿Cuál es el número que tiene su hermano?

- 13 607
- 15 716
- 24 719
- 24 717

7. Completa el cuadro con los datos correspondientes según el cuerpo geométrico.

Figura	Nombre	Ejes de simetría	Vértices	¿Tiene ángulos rectos?
				
				
				
				

8. Martin compró una tableta en \$984 y en la tienda le dieron la promoción de pagar a 12 meses. ¿Cuánto va pagar por mes?

Haz tus operaciones en el siguiente cuadro y contesta.

Esta prohibida la distribución y/o venta de este material sin el conocimiento de **SuperEdu**, cualquier persona no autorizada para dicho propósito estará efectuando una infracción al derecho de autor, la cual sería reportada con las autoridades correspondientes.



@SuperEduMX



@SuperEduMX



Whatsapp: 5538551761